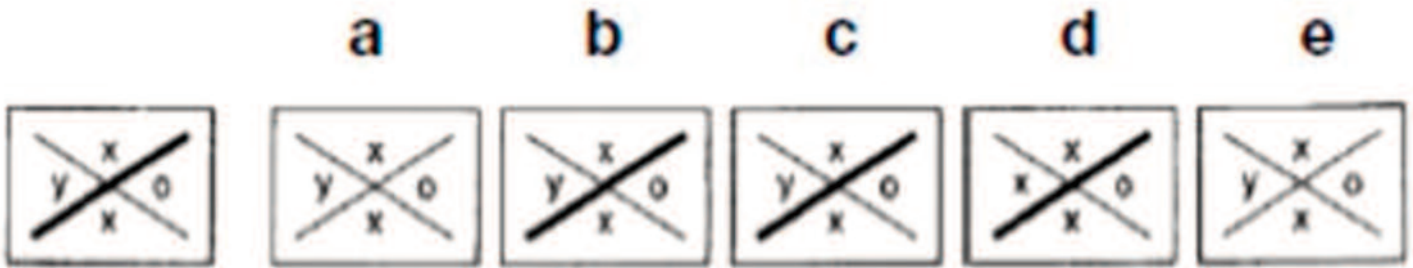


## PSICOTÉCNICOS 04

01.- Señala las figuras iguales a la primera:



- a) c.
- b) ab.
- c) a.
- d) bc.

02.- El que odia a la Humanidad es:

- a) Misántropo.
- b) Filántropo.
- c) Miriápodo.
- d) Excéntrico.

03.- ¿Cuántas “b” hay? d b p b b d d p b d p b p d d p b d b b b d p b b p d d.

- a) 14.
- b) 16.
- c) 13.
- d) 11.

04.- En uno de los siguientes bloques de letras se ha cambiado el orden general del alfabeto. Indica en cuál:

- a) JRX.
- b) FDP.
- c) HTX.
- d) HMX.

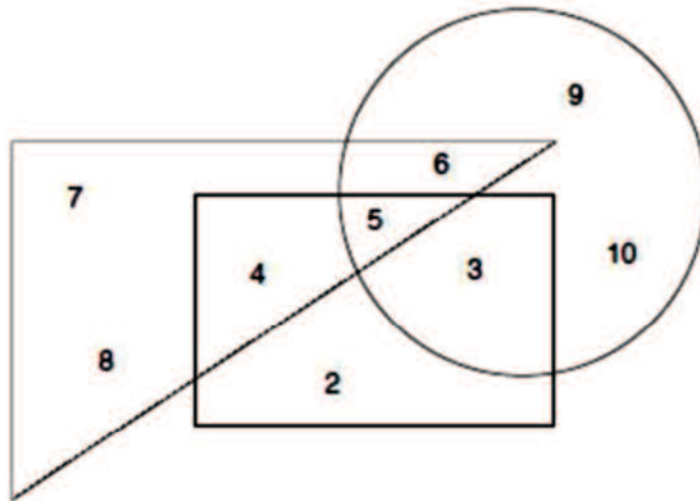
05.- Teniendo en cuenta el abecedario de 26 letras encuentra qué segunda letra continuaría la serie:  
A - C - A - F - H - F - K - M - K - O - Q - O - ...

- a) U.
- b) T.
- c) V.
- d) R.

06.- El nieto de la madre del hermano de mi padre es mi:

- a) Abuelo.
- b) Hijo.
- c) Primo.
- d) Sobrino.

Contesta a las dos preguntas siguientes, que hacen referencia a la imagen que proponemos a continuación:



07.- ¿Qué número se encuentra únicamente dentro del cuadrado y del triángulo?

- a) 2.
- b) 3.
- c) 4.
- d) 5.

08.- ¿Cuánto suman los números que únicamente están en el triángulo?

- a) 15.
- b) 21.
- c) 16.
- d) 30.

09.- Encuentra el número que completa la serie 75 - 72 - 66 - ....- 45 - 30 - 12.

- a) 57.
- b) 61.
- c) 48.
- d) 56.

10.- En un fichero hay dos más pequeños. Dentro de cada uno de estos dos hay cinco más pequeños. ¿Cuántos ficheros hay en total?

- a) 13.
- b) 12.
- c) 10.
- d) 3.

11.- Los abuelos de Carmen y Laura son los mismos; María es la madre de Carmen, y es la hermana de Ramona, que es la hermana de Laura. Si Carmen tiene un hermano, Javier ¿qué relación tiene éste con los padres de María?

- a) Hijo.
- b) Nieto.
- c) Abuelo.
- d) Hermano.

12.- Señala la respuesta que continuaría la serie:

15	
6	36

10	
8	28

5	
10	20

?

a)

0	
12	0

b)

0	
12	12

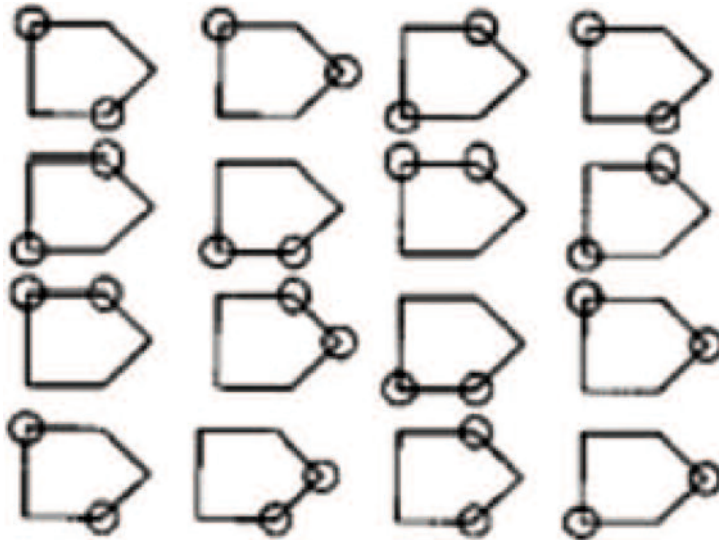
c)

10	
8	28

d)

3	
9	27

13.- Indica la fila o columna que tenga alguna imagen repetida.



- a) Fila 1, columna 3.
- b) Fila 3, columna 1 y 2.
- c) Fila 2, columna 3.
- d) Fila 1, fila 2 y columna 1.

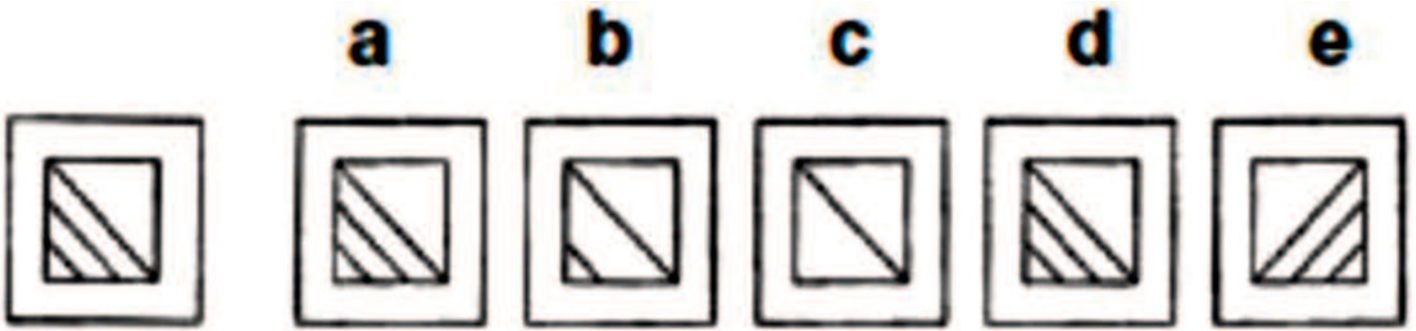
14.- ..... es a pizarra como cartucho es a .....

- a) Pantalla - Perdigón.
- b) Tiza - Escopeta.
- c) Cuaderno - Pistola.
- d) Negra - Fusil.

15.- Si ordenas alfabéticamente las siguientes palabras, cuál ocuparía el segundo lugar:  
Tormenta, zapato, dinero, puente, escoba:

- a) Tormenta.
- b) Escoba.
- c) Zapato.
- d) Puente.

16.- Señala las figuras iguales a la primera:

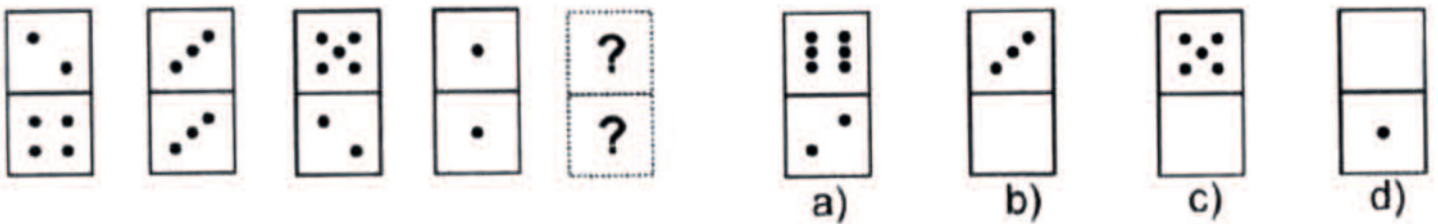


- a) ad.
- b) b.
- c) ec.
- d) d.

17.- ¿Cuál es el símbolo que más se repite? ¿ @ i ¿ % i ¿ % @ ¿ @ ¿ i ¿ @ i ¿ % i @ i ¿

- a) ¿
- b) @
- c) i
- d) %

18.- Resuelve la siguiente serie de dominó:



- a) a.
- b) b.
- c) c.
- d) d.

19.- Elige la frase que, una vez ordenada, tiene sentido:

- a) Agua beberé de esta digas no nunca.
- b) Llueve nunca todos del gusto.
- c) No ve siente ojos corazón qué.
- d) Razones son amores obras son y buenas.

20.- Señala el sinónimo de BENÉVOLO:

- a) Afortunado.
- b) Dichoso
- c) Clemente.
- d) Ninguna es correcta.

## **SOLUCIONES**

**01.- d, 02.- a, 03.- d, 04.- b, 05.- c, 06.- c, 07.- c, 08.- a, 09.- a, 10.- a, 11.- b, 12.- b, 13.- d, 14.- b, 15.- b, 16.- a, 17.- a, 18.- c, 19.- a, 20.- c.**

